


KARADENİZ TEKNİK ÜNİVERSİTESİ SÜRMENE DENİZ BİLİMLERİ FAKÜLTESİ
GÜVERTE VE BALIKÇILIK TEKNOLOJİSİ BÖLÜMLERİ
IKT-202 GENEL EKONOMİ DERSİ 1.ARA SINAV SORULARI

Tarih:18.04.2003, Saat:13:00

Açıklamalar: 

1) Toplam 50 adet çoktan seçmeli sorunuz var. 2) Her soru 2 puan değerinde olup yanlış cevaplar sizi olumsuz bir şekilde etkilemeyecektir. 3) Cevaplarınızı arka sayfada ayrılan alana işaretleyiniz. 4) Kesinlikle kağıt üzerinde karalama yapmayınız. 5) Bazı sorularınız dört seçenekli olup, sınav sorularında herhangi bir yanlışlık yoktur. 6) Süreniz 60 dakikadır. Lütfen sürenin uzatılması yönünde bir talepte bulunmayınız. 6) İlgili gözetmene sınav soruları ile ilgili herhangi bir soru sormayınız. Sınav sonuçlarınızı: <http://www.iibf.ktu.edu.tr/iktisat/artan/genelekonomi.htm> adresinden takip edebilirsiniz.

Başarılar dilerim
Arş.Gör.Seyfettin ARTAN

1. Karşılandığı zaman insanlara haz ve zevk veren, karşılanmadığı zaman ise acı ve üzüntü duyulan duygulara ne ad verilir?

- a) Fiyat
- b) Fayda
- c) İhtiyaç
- d) Değer
- e) Tüketim

2. Aşağıdakilerden hangisi ihtiyaçların özelliklerinden biri değildir?

- a) İhtiyaçlar sonsuzdur
- b) İhtiyaçlar şiddet bakımından farklılık gösterir
- c) İhtiyaçlar karşılandıkça onlara karşı duyulan şiddet değişikliğe uğrar
- d) Ekonomistler ihtiyaçların ahlaki yönü ile ilgilenirler
- e) İhtiyaçlar ve ihtiyaçları karşılayan araçlar birbirinin yerine ikame edilebilir

3. Aşağıdakilerden hangisi üretim faktörü değildir?

- a) Emek
- b) Ücret
- c) Doğal kaynaklar
- d) Sermaye
- e) Müteşebbis

4. Aşağıda verilen mal çiftlerinden hangisinde, birinin fiyatı yükseldiğinde diğersinin talebi artar?

- a) Benzin-otomobil
- b) Çay-şeker
- c) Çay-kahve
- d) Dolma kalem-mürekkep
- e) Tebeşir-yazı tahtası

5. Kahve fiyatlarının çay fiyatlarına göre artması halinde, tüketicilerin içecek ihtiyaçlarını çay ile gidermeleri, aşağıdakilerden hangisine uygun bir örnektir?

- a) Üretici rantı
- b) Tüketici rantı
- c) Gelir etkisi
- d) İkame etkisi
- e) Değer paradoksu

6. Eğer dünyada sadece bir tek mal olsaydı, aşağıdaki kavramların hangisinden bahsedilemezdi?

- a) Marjinal fayda
- b) Fayda
- c) Değer
- d) Tüketim
- e) Üretim

7. Tüketim mallarının üretiminde kullanılan mallara ne ad verilir?

- a) Dayanıklı mal
- b) Dayanıksız mal
- c) Tamamlayıcı mal
- d) İkame malı
- e) Üretim malı

8. Herhangi bir malın bol olduğu bir yerden az olduğu bir yere götürülerek tüketicilerin tüketimine sunulması ne tür bir fayda yaratır?

- a) Şekil faydası
- b) Yer faydası
- c) Mülkiyet faydası
- d) Zaman faydası
- e) Marjinal fayda

9. İmalat faaliyeti sonucunda yaratılan faydaya ne ad verilir?

- a) Şekil faydası
- b) Yer faydası
- c) Mülkiyet faydası
- d) Zaman faydası
- e) Marjinal fayda

10. Tüketici ihtiyaçlarını doğrudan karşılayan mallara ne ad verilir?


- a) Serbest mal
- b) Üretim malı
- c) Tüketim malı
- d) Fakir mal
- e) İkame malı

11. Tüketicinin, geliri artarken bir mala olan talebi de artıyorsa bu mal için aşağıdakilerden hangisi doğrudur?

- a) Normal mal
- b) Fakir mal
- c) Serbest mal
- d) Tüketim malı
- e) Üretim malı

12. Diğer etkenler sabitken, tüketicinin geliri artarsa, bu tüketicinin normal mala olan talebi;

- a) Değişmez
- b) Artar
- c) Azalır
- d) Önce artar, sonra azalır
- e) Önce azalır, sonra artar

Lütfen Arka Sayfaya Geçiniz 

13. Tüketicinin geliri arttığında talebi artan, tüketicinin geliri arttığında talebi azalan mal ikilisi aşağıdaki seçeneklerin hangisinde doğru olarak verilmiştir?

- a) İkame malı-tamamlayıcı mal
- b) Serbest mal-normal mal
- c) Fakir mal-ikame malı
- d) Fakir mal-normal mal
- e) Normal mal-fakir mal

14. Sadece iki malın bulunduğu bir ekonomide mallardan biri fakir mal ise diğeri için ne söylenebilir?

- a) Lüks mal
- b) Zorunlu mal
- c) Normal mal
- d) İkame malı
- e) Nasıl bir mal olduğu bilinemez

15. Normal bir malın piyasa talep eğrisi, hangi durumda sağa kaymayabilir?

- a) Milli gelir düzeyi arttığında
- b) Tamamlayıcı malların fiyatları düştüğünde
- c) İkame mallarının fiyatı arttığında
- d) Nüfus arttığında
- e) Gelir dağılımı daha adil duruma geldiğinde

16. Sermaye faktörünün üretime katılma karşılığında elde ettiği gelir aşağıdakilerden hangisidir?

- a) Faiz
- b) Kar
- c) Ücret
- d) Rant
- e) Emek

17. Serbest bir malın alternatif maliyeti aşağıdakilerden hangisidir?

- a) Dört
- b) Üç
- c) Bir
- d) Sıfır
- e) Hiçbiri

18. Üretim olanakları eğrisinin orijine göre içbükey olmasının nedeni aşağıdakilerden hangisidir?

- a) Sabit fırsat maliyetler
- b) Azalan fırsat maliyetler
- c) Artan fırsat maliyetler
- d) Teknolojik gelişme
- e) Nüfus artışı

19. Üretim olanakları eğrisi üzerindeki noktalar için aşağıdakilerden hangisi doğrudur?

- a) Ekonomide işsizlik var
- b) Mevcut üretim faktörlerinin tamamı kullanılmıyor
- c) Mevcut üretim faktörlerinin tamamı kullanılıyor
- d) Bu noktalarda üretimde bulunmak imkansızdır
- e) Teknolojik gelişme söz konusudur

20. Aşağıdakilerden hangisi, üretim olanakları eğrisini sağa doğru kaydıran nedenlerden biri değildir?

- a) Teknolojik gelişme
- b) Emek miktarındaki artış
- c) Emeğin kalitesindeki artış
- d) Ekonominin dışa açılması ve ekonomiye sermaye girişi
- e) Diğer ekonomilere beyin göçü

21. Üretim olanakları eğrisinin altındaki bir noktada üretimde bulunan bir ekonomi için aşağıdakilerden hangisi söz konusudur?

- a) Ekonomideki kaynaklar tam ve etkin biçimde kullanılıyor
- b) Ekonomideki kaynaklar tam ve etkin biçimde kullanılmıyor
- c) Bu noktada üretimde bulunmak imkansızdır
- d) Kişi başına düşen gelir artmıştır
- e) Hiçbiri

22. Artan fırsat maliyeti kanununa göre üretim olanakları eğrisinin şekli nasıl olur?

- a) Pozitif eğimli bir doğru
- b) Negatif eğimli bir doğru
- c) Orijine göre dış bükey
- d) Orijine göre iç bükey
- e) İkizkenar hiperbol

23. Sabit fırsat maliyeti kanununa göre üretim olanakları eğrisinin şekli nasıl olur?

- a) Pozitif eğimli bir doğru
- b) Negatif eğimli bir doğru
- c) Orijine göre iç bükey
- d) Orijine göre dış bükey
- e) İkizkenar hiperbol

24. “Ceteris Paribus” varsayımı ile ifade edilmek istenen aşağıdakilerden hangisidir?

- a) Artan fırsat maliyetler
- b) Azalan fırsat maliyetler
- c) Diğer faktörlerin değişmediği
- d) Üretici miktarının değişmediği
- e) Tüm faktörlerin değiştiği

25. Kapitalist ekonomik sistemi benimsemiş olan bir toplumda, “hangi malların ne miktarlarda ve nasıl üretilceğine” aşağıdaki kurumlardan hangisi karar verir?

- a) Parlamento
- b) Sendikalar
- c) Yerel yönetimler
- d) Tüketiciler
- e) Üretici ve tüketiciler

26. Üretim faktörlerinin tamamının üretime katılması aşağıdaki kavramların hangisi ile ifade edilmektedir?


- a) Eksik kullanım
- b) Eksik istihdam
- c) İşsizlik
- d) Tam istihdam
- e) Etkin olmayan üretim

27. Ekonomideki mevcut kaynakların etkin kullanımını sağlanması için verilecek kararlarda aşağıdaki sorulardan hangisi dikkate alınmaz?

- a) Hangi mal ve hizmetler üretilecek
- b) Ne miktarlarda üretilecek
- c) Üretim hangi yöntemlerle ve nasıl yapılacak
- d) Mal ve hizmetlerin bölüşümü nasıl yapılacak
- e) İthalat hangi ülkeden yapılacak

28. Aşağıdakilerden hangisi kapitalist sistemin işleyişini sağlayan kurumlardan biri değildir?

- a) Özel mülkiyet
- b) Girişim özgürlüğü
- c) Fiyat mekanizması
- d) Kamu mülkiyeti

Lütfen Diğer Sayfaya Geçiniz 

29. "1 kg muz=1000 TL, 1 kg muz=2 kg elma" ifadelerini açıklayan kavram ikilisi aşağıdaki seçeneklerin hangisinde doğru olarak verilmiştir?

- a) Mutlak fiyat-Nispi fiyat
- b) Mutlak fiyat-Satıcı fiyat
- c) Nispi fiyat-Satıcı fiyatı
- d) Nispi fiyat-Mutlak fiyat
- e) Satıcı fiyatı-Mutlak fiyat

30. Aşağıdakilerden hangisi tam rekabet piyasasının özelliklerinden biri değildir?

- a) Alıcı ve satıcıların piyasa hakkında tam bir bilgiye sahiptir
- b) Farklılaştırılmış ürün üretilmesi
- c) Piyasada çok sayıda alıcı ve satıcı olması
- d) Piyasaya giriş ve çıkışların serbest olması
- e) Fiyatın veri olması

31. Talep eğrisi aşağıdakilerin hangisinde verilen değişkenler arasındaki ilişkiyi gösterir?

- a) Gelir-Talep edilen miktar
- b) Fiyat-Üretim maliyetleri
- c) Fiyat-Talep edilen miktar
- d) Fayda-Talep edilen miktar
- e) Tüketici tercihleri-Talep edilen miktar

32. Bir malın, hem ikame hem de tamamlayıcı malının fiyatı arttığında o malın talebi için aşağıdakilerden hangisi söylenebilir.

- a) Değişmez
- b) Azalır
- c) Artar
- d) Hepsi

33. Aşağıdakilerden hangisi bir mala olan talep miktarını artırır?

- a) Malın fiyatının artması
- b) Tamamlayıcı malın fiyatının artması
- c) İkame malının fiyatının artması
- d) İkame malının fiyatının düşmesi
- e) Tüketici gelirinin azalması

34. Aşağıdakilerden hangisi talep eğrisinin kaymasına neden olmaz?

- a) Gelirdeki değişme
- b) Zevk ve tercihlerdeki değişme
- c) Malın kalitesi
- d) İkame malı fiyatındaki değişme
- e) Teknolojik gelişme

35. Aşağıdakilerden hangisi talep eğrisinin sola kaymasına neden olur?

- a) Gelir artışı
- b) Teknolojik gelişme
- c) Tamamlayıcı malın fiyatındaki düşme
- d) İkame malının fiyatındaki düşme
- e) İlgili malın fiyatındaki artış

36. Aşağıdakilerden hangisi bir ekonomideki talep miktarını belirlemez?

- a) Malın kalitesi
- b) Zevk ve tercihler
- c) Nüfus
- d) Malın fiyatı
- e) Gelir düzeyi

37. Arz yasası aşağıdaki değişkenlerin hangileri arasındaki ilişkiyi gösterir?

- a) Üretici Sayısı-Arz edilen miktar
- b) Malın Maliyeti-Arz edilen miktar
- c) Malın Fiyatı-Arz edilen miktar
- d) Teknolojik düzey-Arz edilen miktar
- e) Malın kalitesi-Arz edilen miktar

38. Aşağıdakilerden hangisi bir malın arzını etkileyen unsurlardan biri değildir?

- a) Malın fiyatındaki değişme
- b) İkame malı fiyatındaki değişme
- c) Tamamlayıcı mal fiyatındaki değişme
- d) Üretim faktörleri fiyatındaki değişme
- e) Zevk ve tercihlerdeki değişme

39. Bir malın talep eğrisi sabitken, arz eğrisinin sola doğru kayması sonucu aşağıdakilerden hangisi gerçekleşir?

- a) Denge miktarı artarken, denge fiyatı düşer
- b) Denge miktarı azalırken, denge fiyatı artar
- c) Denge miktarı artarken denge fiyatı sabit kalır
- d) Hem denge miktarı hem de denge fiyatı azalır
- e) Hem denge miktarı hem de denge fiyatı artar

40. Bir malın talebindeki artışın arzındaki azalıştan daha fazla olması durumunda aşağıdakilerden hangisi gerçekleşir?

- a) Denge miktarı artarken, denge fiyatı düşer
- b) Denge miktarı azalırken, denge fiyatı artar
- c) Denge miktarı artarken denge fiyatı sabit kalır
- d) Hem denge miktarı hem de denge fiyatı azalır
- e) Hem denge miktarı hem de denge fiyatı artar

41. Arz eğrisinin pozitif eğimli olmasının nedeni aşağıdakilerden hangisidir?

- a) Talep kanunu
- b) Azalan marjinal fayda kanunu
- c) Arz kanunu
- d) Değer paradoksu
- e) Fiyat mekanizması

42. Alıcılar, satıcılar, mal ve hizmetler ile üretim faktörlerinin hiçbir ek maliyete katlanmadan tam bir hareket serbestliğine sahip olması aşağıdaki tam rekabet piyasası özelliklerinden hangisini ifade eder.

- a) Atomisite
- b) Mobilite
- c) Homojenlik
- d) Türdeşlik
- e) Açıklık

I.Emek

II.Para

III.Tabiat

IV.Sermaye

43.Yukarıdakilerden hangileri üretim faktörlerinden değildir.

- a) I ve II
- b) II ve III
- c) II ve IV
- d) III ve IV
- e) III ve I

44.Aşağıdakilerden hangisi ikame mallarına örnektir.

- a) Kahve-Süttozu
- b) Otomobil-Benzin
- c) Çay-Şeker
- d) Doğalgaz-Kömür
- e) Oje-Aseton

45.Üretim faktörlerinden sermayenin fiyatına ne denir?

- a) Emek
- b) Ücret
- c) Para
- d) Kar
- e) Faiz

46. Bir ekonomide insanların ihtiyaçlarını karşılayacak kadar mal ve hizmet üretecek kaynakların bulunmaması durumuna ne ad verilir?

- a) Refah
- b) Konjonktür
- c) Bolluk
- d) Resesyon
- e) Kıtlık

47. Alıcı ve satıcıların mal ve hizmetlerini değiştirebilmeleri amacıyla yapılan düzenlemelere ne ad verilir?

- a) Değer
- b) Fayda
- c) Fiyat
- d) Piyasa
- e) Alternatif maliyet

48. Aşağıdakilerden hangisi üretim faktörüdür?

- a) Ücret
- b) Para
- c) Faiz
- d) Kar
- e) Sermaye

49. "İktisadi" kelimesi aşağıdaki kavramlardan en çok hangisiyle ilgilidir?

- a) Kıt
- b) Serbest
- c) Sınırsız
- d) Zorunlu
- e) Rekabet

50. Aşağıdakilerden hangisi üretimde etkinliği tanımlar?

- a) Bir mal ya da hizmetin en düşük maliyetle üretilmesi
- b) Kaynakların tam kapasite ile kullanılması
- c) Bir malın miktarını arttırmanın en azından bir başka malın miktarının azaltılmasına bağlı olması
- d) Bir mal veya hizmetin azami kar sağlayacak şekilde üretilmesi
- e) Hiçbiri

Sorular Bitti

Adı ve Soyadı:

No:

Bölüm:

İmza:

	A	B	C	D	E
1					
2					
3					
4					
5					
6					
7					
8					
9					
10					
11					
12					
13					
14					
15					
16					
17					
18					
19					
20					
21					
22					
23					
24					
25					

	A	B	C	D	E
26					
27					
28					
29					
30					
31					
32					
33					
34					
35					
36					
37					
38					
39					
40					
41					
42					
43					
44					
45					
46					
47					
48					
49					
50					